

In unmittelbarer Nähe steht eine Bank, die uns eine kurze Rast erlaubt. Nun folgen wir weiter dem Weg, der uns bei einer scharfen Linkskurve einen wunderschönen Blick auf Falkau bietet. Gerne könnt ihr währenddessen „Ich sehe was, was du nicht siehst“ spielen. Wir folgen dem Weg bis zur nächsten Kreuzung und gehen hier den Weg mit der gelben Raute entlang. Links steht ein Haus mit einer wunderschönen Steinmauer.

9. Welche Hausnummer hat dieses Haus?
 U 4 V 6 I 2



Weiter geht es ca. 300 m bis wir die Bundesstraße erreichen (bitte die Unterführung nutzen). An der Kirche angekommen, suchen wir den seitlichen Eingang.

10. Welche Jahreszahl steht dort über der Tür?
 E 1765 R 1825 H 1900

Nun geht es weiter bis zum Dorfplatz. Hier am Brunnen angelangt, sehen wir eine Jahreszahl am Geländer.

11. Welche ist das?
 A 1990 L 1992 G 1986

Nun folgen wir der Poststraße.

12. Auf welche Straße treffen wir am Ende?
 T Bährentalstraße P Bärentalerstraße Q Bärenstraße

Weiter geht es links Richtung Kindergarten (Wegweiser beachten).

13. Wie heißt die Straße, die zum Kindergarten führt? (Nicht einbiegen)
 Y Hofstraße L Schulstraße O Gehstraße

Wir folgen dem Straßenverlauf (Achtung: Hier gibt es keinen Gehweg).

14. Auf welchen Wegweiser treffen wir?



Hier geht es Richtung Bahnhof. Dort angekommen stellt sich uns die Frage:

15. Wie heißt der Zug, der hier anhält?
 J Express-Zug E Dreiseisenbahn C Hogwarts-Express

Jetzt führt uns der Weg am Bahnhof vorbei, links runter auf den Wanderweg Richtung Bahnunterführung. Vor der Unterführung gibt es einen Strommasten. Um Reparaturen ausführen zu können, müssen die Monteure Leitersprossen hinaufsteigen.

16. Wie viele Sprossen zählt ihr? (Zur Info: rechte und linke Sprosse gelten als Eine)
 Ö 35 Ü 45 T 40


Nun gehen wir rechts durch die Bahnunterführung und folgen dem Weg bis zur nächsten Straßenkreuzung.

17. Zwischen welchen beiden Hausnummern kommen wir raus?
 L 3 und 5 Z 5 und 7 P 7 und 9

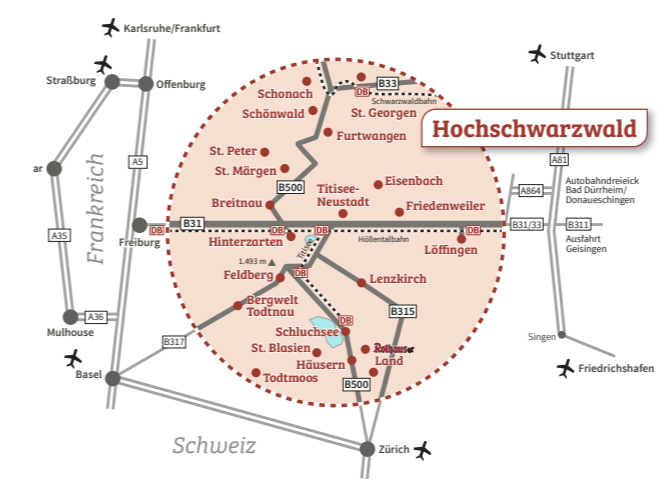
Weiter geht es rechts Richtung Ortsmitte, zurück zum Rathaus. Neben der Eingangstür befindet sich ein Schild vom „Großherzogtum“ Baden.

18. Welche Form hat es?
 X Viereck M Sechseck E Achteck

Lösungswort:



Anfahrt



Weitere Informationen
 Hochschwarzwald Tourismus GmbH
 Tel.: +49(0)7652 1206-30
 info@hochschwarzwald.de
 hochschwarzwald.de

Unsere Premiumpartner:



Kuckys Ortsrallye
 Altglashütten



Kuckys Ortsrallye

Altglashütten

Ein herzliches Kuckuck,

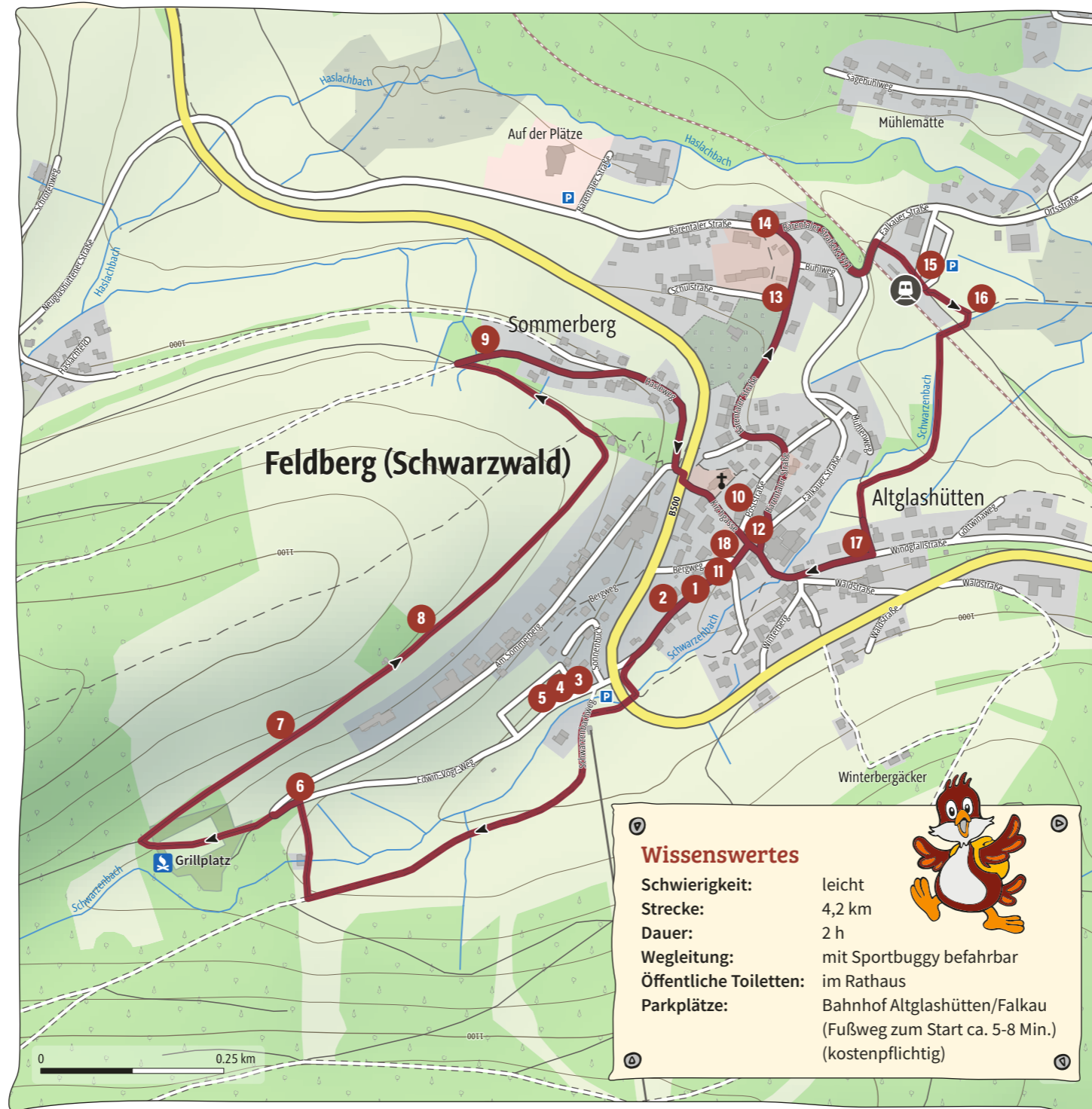
an die wild entschlossenen Entdecker, die mit diesem Plan auf Tour gehen. Ich bin hochaufgeregt, heute mit euch abenteuerlustigen Besuchern die Dorfrallye um Altglashütten und Falkau zu erleben. Habt ihr Lust euren Urlaubsort mal anders kennenzulernen? Dann legt los! Ihr seid 8 Jahre alt oder älter? Dann schnappt euch eure Eltern oder Großeltern und die Dorfrallye kann beginnen.

Viel Spaß
beim
Entdecken!



Tipp!

Kuckt doch mal, wie ein Glasbläser arbeitet, das Glas verformt wird und langsam Gestalt annimmt. Ihr könnt Herrn Eckardt bei der Arbeit in seiner Glasbläserei (Bergweg 4) beobachten. Und wer an heißen Sommertagen eine kleine Abkühlung braucht, der kann sich auf den Weg zum nahegelegenen idyllischen Windfällweiher machen.



Wissenswertes

Schwierigkeit: leicht
Strecke: 4,2 km
Dauer: 2 h
Wegleitung: mit Sportbuggy befahrbar
Öffentliche Toiletten: im Rathaus
Parkplätze: Bahnhof Altglashütten/Falkau (Fußweg zum Start ca. 5-8 Min.) (kostenpflichtig)



Ortsrallye Stationen

Unsere Ortsrallye beginnt am Rathaus in Altglashütten. Wir suchen den Wegweiser aus Holz, der vor dem Rathaus steht.

1. Wie viele verschiedene Schilder, die nach „Bärental“ weisen, gibt es dort?
 B 6 K 4 C 5

Nun folgen wir dem Schwarzenbachweg nach rechts.

2. Wie viele Häuser zählt ihr auf der linken Seite der Straße? Es geht los mit Hausnummer 7.
 M 6 L 8 I 4

Am Ende der Straße halten wir uns links und nutzen die Straßenunterführung, damit wir die Bundesstraße umgehen. Jetzt treffen wir auf eine Wassertretstelle mit viel Grünfläche zum Toben, oder um eine kleine Vesperpause einzulegen. Hier können wir nun in aller Ruhe die nächste Frage beantworten.

3. Gebt zu jedem Buchstaben des Wortes „Wasser“ die entsprechende Zahl an (Bsp: A=1; B=2; C=3;...)
 Wasser: ___ + ___ + ___ + ___ + ___ + ___ = x : 5 = ___
 Am Ende den Buchstaben zu deinem Ergebnis eintragen.
 M 15 N 17 O 21

Nun schauen wir uns weiter um und sehen eine Hütte/Gaststätte.

4. Wie ist ihr Name?
 A Hasenstall H Fuchsbau D Geißenhof

Rund um das Haus gibt es eine Weide.

5. Welche Tiere sind hier im Sommer rund um die Hütte auf der Weide zu sehen?
 P Alpakas E Geißen G Rentiere

Nun folgen wir dem Wanderweg bis zur Waldgrenze. Dort gehen wir nach rechts und kommen auf der anderen Seite der Geißenweide an.

6. Welchen Baum seht ihr?



Nun halten wir uns links und gehen geradeaus über einen großen Platz bis wir rechts in den Peter-Dünnebacke-Weg einbiegen. Wir gehen den Weg weiter, bis wir an eine einzelne große Fichte kommen.

7. Was sehen wir hier auf der gegenüberliegenden Talseite?
 Z Rodelbahn S Skilift W Gondelbahn

Weiter führt uns der Weg bis wir links ein kleines Gebäude sehen.

8. Was könnte das für ein Gebäude sein?
 A Futterlager P Wasserreservoir L Försterunterstand